

## Тест

Автор: учитель информатики МБОУ СОШ№6 г.Салехард Белкин А.А.

### Задание #1

Вопрос:

..... - это любое словесное высказывание, напечатанное, написанное или существующее в устной форме

Выберите один из 5 вариантов ответа:

- 1) все ответы верны
- 2) верного ответа нет
- 3) буква
- 4) звук
- 5) текст

### Задание #2

Вопрос:

Если точка А имеет координаты (2;2), то в какой четверти она находится?

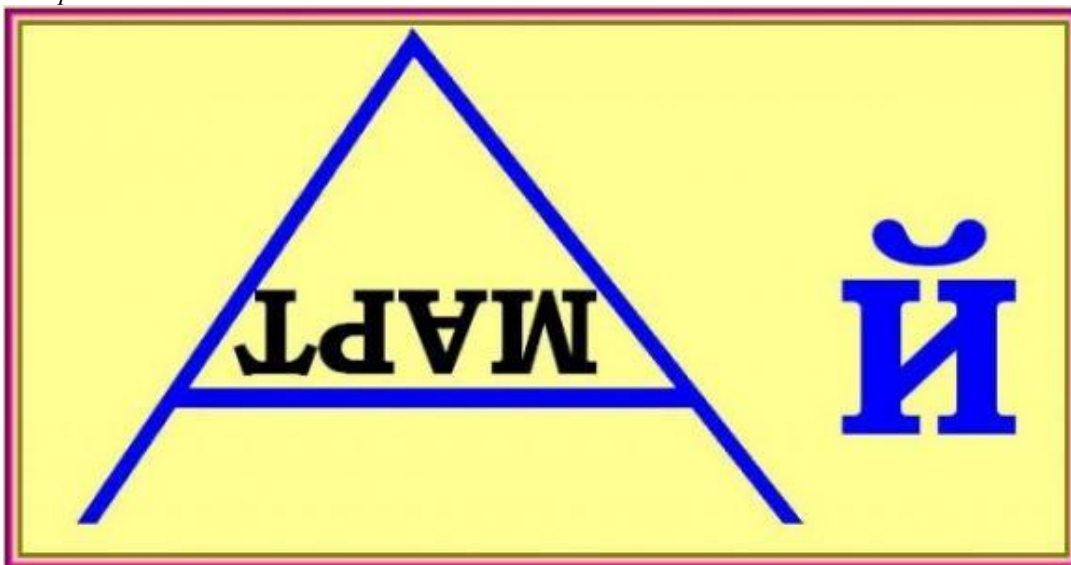
Выберите один из 6 вариантов ответа:

- 1) в III четверти
- 2) верного ответа нет
- 3) во II четверти
- 4) все ответы верны
- 5) в I четверти
- 6) в IV четверти

### Задание #3

Вопрос:

Изображение:



Запишите ответ:

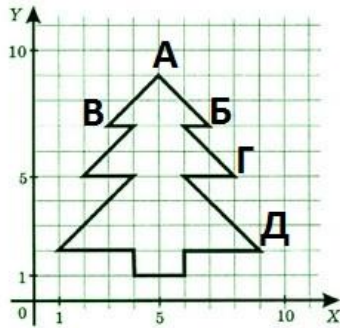
---

#### Задание #4

Вопрос:

Какие координаты имеет точка В

Изображение:



Выберите один из 7 вариантов ответа:

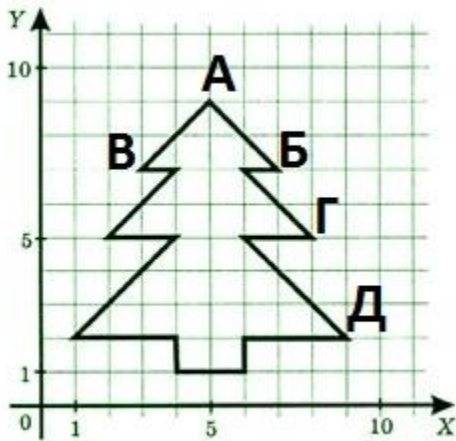
- 1) (5;8)
- 2) (8;5)
- 3) верного ответа нет
- 4) все ответы верны
- 5) (5;9)
- 6) (9;5)
- 7) (7;7)

#### Задание #5

Вопрос:

Какие координаты имеет точка Д

Изображение:




Выберите один из 7 вариантов ответа:

- 1) все ответы верны
- 2) (9;5)
- 3) (8;5)
- 4) (7;7)
- 5) (5;9)
- 6) верного ответа нет
- 7) (5;8)

### **Задание #6**

Вопрос:

Изображение:



Запишите ответ:

---

### **Задание #7**

Вопрос:

Мальчик заменил каждую букву имени своей игрушки её номером в алфавите. Получилось 2 1 18 15 1 2 10. Как мальчик назвал игрушку?

Запишите ответ:

---

### **Задание #8**

Вопрос:

... - это система условных знаков для представления информации.

Запишите ответ:

---

### **Задание #9**

Вопрос:

Выберите способы кодирования информации

Выберите один из 5 вариантов ответа:

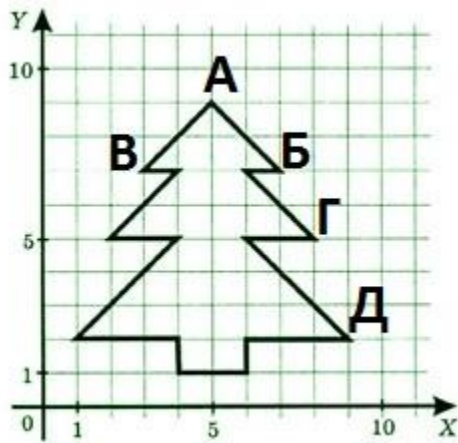
- 1) все ответы верны
- 2) числовой
- 3) верного ответа нет
- 4) графический
- 5) символьный

### **Задание #10**

Вопрос:

Какие координаты имеет точка А

Изображение:



Выберите один из 7 вариантов ответа:

- 1) все ответы верны
- 2) (5;8)
- 3) верного ответа нет
- 4) (8;5)
- 5) (9;5)
- 6) (7;7)
- 7) (5;9)

### **Задание #11**

Вопрос:

К какому виду информации относится газета?

Выберите один из 6 вариантов ответа:

- 1) видеоинформация
- 2) верного ответа нет
- 3) текстовая информация
- 4) звуковая информация
- 5) все ответы верны
- 6) числовая информация

### **Задание #12**

Вопрос:

Если точка А имеет координаты  $(-2;-2)$ , то в какой четверти она находится?

Выберите один из 6 вариантов ответа:

- 1) в I четверти
- 2) во II четверти
- 3) в IV четверти
- 4) все ответы верны
- 5) в III четверти
- 6) верного ответа нет

### **Задание #13**

Вопрос:

Изображение:



Запишите ответ:

---

### **Задание #14**

Вопрос:

К какому виду информации относится табличка с номером дома?

Выберите один из 6 вариантов ответа:

- 1) числовая информация
- 2) текстовая информация
- 3) звуковая информация
- 4) верного ответа нет
- 5) видеоинформация
- 6) все ответы верны

### **Задание #15**

Вопрос:

.... - это представление информации с помощью некоторого кода

Запишите ответ:

---

### **Задание #16**

Вопрос:

Мальчик заменил каждую букву имени своей игрушки её номером в алфавите. Получилось 13 6 18 16 11. Как мальчик назвал игрушку?

Запишите ответ:

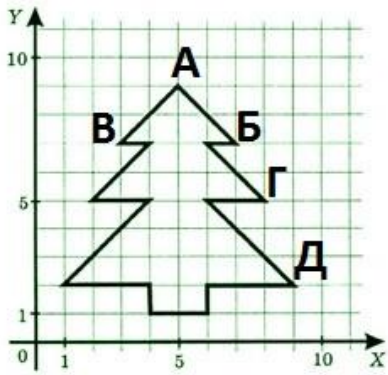
---

### **Задание #17**

Вопрос:

Какие координаты имеет точка Г

Изображение:



Выберите один из 7 вариантов ответа:

- 1) верного ответа нет
- 2) (5;8)
- 3) все ответы верны
- 4) (7;7)
- 5) (8;5)
- 6) (5;9)
- 7) (9;5)

### **Задание #18**

Вопрос:

Если точка А имеет координаты (2;-2), то в какой четверти она находится?

Выберите один из 6 вариантов ответа:

- 1) в III четверти
- 2) в I четверти
- 3) во II четверти
- 4) в IV четверти
- 5) верного ответа нет
- 6) все ответы верны

### **Задание #19**

Вопрос:

Изображение:



Запишите ответ:

---

### **Задание #20**

Вопрос:

К какому виду информации относится кинофильм?

Выберите один из 6 вариантов ответа:

- 1) текстовая информация
- 2) числовая информация
- 3) звуковая информация
- 4) видеоинформация
- 5) все ответы верны
- 6) верного ответа нет

### **Задание #21**

Вопрос:

Мальчик заменил каждую букву имени своей игрушки её номером в алфавите. Получилось 18 16 9 6 15 12 18 1 15 24. Как мальчик назвал игрушку?

Запишите ответ:

---

### **Задание #22**

Вопрос:

Если точка А имеет координаты  $(-2;2)$ , то в какой четверти она находится?

Выберите один из 6 вариантов ответа:

- 1) в III четверти
- 2) все ответы верны
- 3) в IV четверти
- 4) во II четверти
- 5) верного ответа нет
- 6) в I четверти

### **Задание #23**

Вопрос:

Изображение:




Запишите ответ:

---

### **Задание #24**

Вопрос:

Изображение:



Запишите ответ:

---

### Задание #25

Вопрос:

Изображение:



Запишите ответ:

---

### ОТВЕТЫ:

- 1) (1 б.) Верные ответы: 5;
- 2) (1 б.) Верные ответы: 5;
- 3) (1 б.) Верный ответ: "трамвай".
- 4) (1 б.) Верные ответы: 3;
- 5) (1 б.) Верные ответы: 6;
- 6) (1 б.) Верный ответ: "фонарь".
- 7) (1 б.) Верный ответ: "барнаби".
- 8) (1 б.) Верный ответ: "код".
- 9) (1 б.) Верные ответы: 1;
- 10) (1 б.) Верные ответы: 7;
- 11) (1 б.) Верные ответы: 3;
- 12) (1 б.) Верные ответы: 5;
- 13) (1 б.) Верный ответ: "шкатулка".
- 14) (1 б.) Верные ответы: 1;
- 15) (1 б.) Верный ответ: "кодирование".



- 16) (1 б.) Верный ответ: "лерой".
- 17) (1 б.) Верные ответы: 5;
- 18) (1 б.) Верные ответы: 4;
- 19) (1 б.) Верный ответ: "каток".
- 20) (1 б.) Верные ответы: 4;
- 21) (1 б.) Верный ответ: "розенкранц".
- 22) (1 б.) Верные ответы: 4;
- 23) (1 б.) Верный ответ: "запятая".
- 24) (1 б.) Верный ответ: "стиль".
- 25) (1 б.) Верный ответ: "рыбка".

Конец